

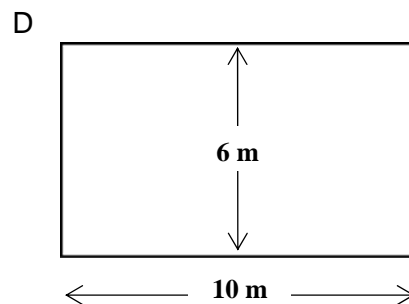
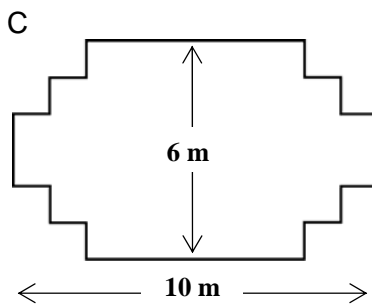
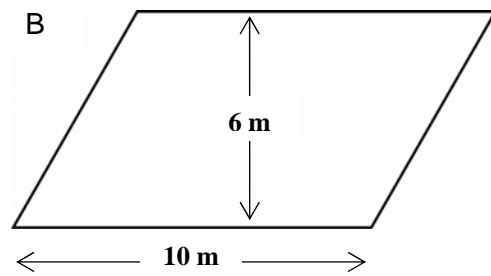
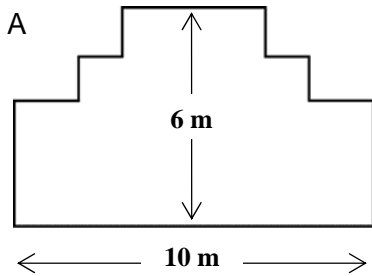
EL CARPINTERO

PREGUNTA 31: EL CARPINTERO

M266Q01

Un carpintero tiene la madera necesaria para hacer una cerca de 32 metros de largo y quiere colocarla alrededor de un jardín. Está considerando los siguientes diseños para ese jardín.

Encierra en un círculo "Sí" o "No" para cada diseño, dependiendo si se puede realizar



con la cerca de 32 metros.

Diseño del jardín	Usando este diseño, ¿se puede realizar con 32 metros de cerca?
Diseño A	Sí / No
Diseño B	Sí / No
Diseño C	Sí / No
Diseño D	Sí / No