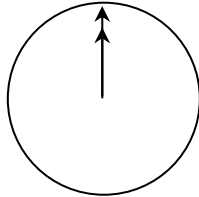


---

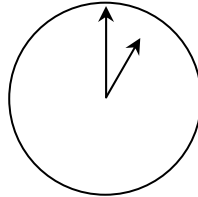
## EL CHAT

Mark (de Sydney, Australia) y Hans (de Berlín, Alemania) a menudo se comunican entre ellos “chateando” por Internet. Ellos se tienen que conectar a Internet al mismo tiempo para poder “chatear”.

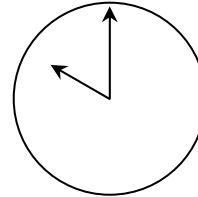
Para encontrar una hora adecuada para “chatear”, Mark buscó en un cuadro de horarios del mundo y encontró lo siguiente:



Greenwich 12:00 Medianoche



Berlín 1:00 a.m.



Sydney 10:00 a.m.

---

### Pregunta 7: EL CHAT

M402Q01 - 0 1 9

Si son las 7:00 p.m. en Sydney, ¿qué hora es en Berlín?

Respuesta:.....

---

### Pregunta 8: EL CHAT

M402Q02 - 0 1 9

Mark y Hans no pueden “chatear” entre las 9:00 a.m. y las 4:30 p.m. de sus horarios locales, porque tienen que ir a la escuela. Igualmente, entre las 11:00 p.m. y las 7:00 a.m. de sus horarios respectivos tampoco podrán “chatear” porque estarán durmiendo.

¿Cuándo sería el momento adecuado para que Mark y Hans “chatearan”? Escribe las horas locales en el cuadro.

Lugar	Hora
Sydney	
Berlín	