



LA PATINETA

Eric es un fanático de la patineta. Visitó la tienda llamada PATINETAS para comprobar algunos precios.

En esta tienda se puede comprar una patineta armada. Pero también se puede comprar la tabla, un juego de 4 ruedas, un juego de 2 ejes y un juego de accesorios para armarla uno mismo.

Los precios de los productos en la tienda son los siguientes:

Producto	Precio en zeds	
Patineta armada	82 u 84	
Tabla	40, 60 ó 65	
Un juego de 4 ruedas	14 ó 36	
Un juego de 2 ejes	16	
Un juego de accesorios (cojinetes, hules, tornillos y tuercas)	10 ó 20	

Pregunta 15: LA PATINETA*M520Q01a**M520Q01b*

Eric quiere armar su propia patineta. ¿Cuál es el precio mínimo y máximo, en esta tienda, para las patinetas que arma uno mismo?

(a) Precio mínimo: zeds.

(b) Precio máximo: zeds.

Pregunta 16: LA PATINETA*M520Q02*

La tienda ofrece tres tablas distintas, dos juegos de ruedas diferentes y dos tipos distintos de accesorios. Sólo hay una opción para el juego de ejes.

¿Cuántos tipos de patinetas puede armar Eric?

- A 6
- B 8
- C 10
- D 12

Pregunta 17: LA PATINETA*M520Q03*

Eric tiene 120 zeds para gastar y quiere comprar la patineta más cara que pueda.

¿Cuánto dinero puede gastar Eric en cada una de las 4 partes? Escribe tu respuesta en el cuadro siguiente.

Parte	Monto (zeds)
Tabla	
Ruedas	
Ejes	
Accesorios	